

Commencer par écrire la date sur une feuille : Mardi 18 janvier 2022

- Dictée de phrases

Mon oncle pose du sucre et du café dans son sac. Qui chante à la chorale ? Que mange le kangourou ? Je chante à la chorale.

- Grammaire: le pronom personnel sujet

Leçon + fiche d'exercices

9 Les pronoms personnels (en position sujet) Prénom :

Je m'entraîne

① Complète avec le pronom personnel qui convient.
Mon cousin est très peureux, tremble quand voit un chien.
Sa petite sœur est plus courageuse, ose s'approcher. Cependant, fait attention.
« n'as pas de raison d'avoir peur, dit-elle à son frère. Regarde, moi, m'approche doucement. n'est pas méchant. »

② Complète avec le pronom personnel sujet qui convient *il, elle, ils* ou *elles*.

Marion et son amie vont à la piscine, plongent dans le grand bain.

Mon petit frère goute dans la cuisine, mange un pain au chocolat.

Mes parents préparent leurs bagages, partent en voyage.

La petite Fantine prend un livre, regarde les images.

③ Dans chaque phrase, souligne en rouge le verbe et en bleu le groupe sujet. Puis récris la phrase en remplaçant le groupe sujet par un pronom personnel.

Lina saute à la corde.

.....

Les trois enfants jouent au jeu vidéo.

.....

Demain, mes cousins et moi irons au cinéma.

.....

Leçon entrée en grammaire au CE1 © Retz, 2019

• **Mathématiques : module 8 séance 7**

1. Activités ritualisées:

- Lecture de nombres : 114-311-513-112
- Comparer les nombres : 123 et 125 /148 et 167/ 169 et 182

2. Calcul mental :

Chronomath 1 : calculer en 3 minutes

Chronomath 1

1 $3 + 4 = \dots$ 11 $100 + 1 = \dots$ 21 double de 8 : \dots

2 $5 + 2 = \dots$ 12 $20 + 20 = \dots$ 22 $138 + 20 = \dots$

3 double de 2 : \dots 13 $48 + 10 = \dots$ 23 $80 - 1 = \dots$

4 $5 - 1 = \dots$ 14 $50 - \dots = 40$ 24 $144 + 1 = \dots$

5 $5 + 5 = \dots$ 15 $10 - 3 = \dots$ 25 $153 + 2 = \dots$

6 $10 + \dots = 6$ 16 $25 + 40 = \dots$ 26 double de 10 : \dots

7 $30 + 4 = \dots$ 17 double de 9 : \dots 27 $186 + 2 = \dots$

8 double de 7 : \dots 18 $63 + 30 = \dots$ 28 $20 - 5 = \dots$

9 $20 + 30 = \dots$ 19 $100 + 78 = \dots$ 29 $65 + 9 = \dots$

10 $50 + 30 = \dots$ 20 $200 + 20 + 4 = \dots$ 30 double de 12 : \dots

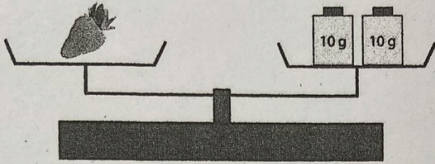
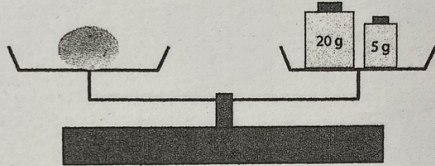
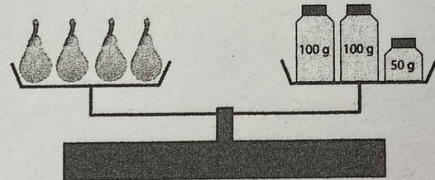
Score :

3. Apprentissages :

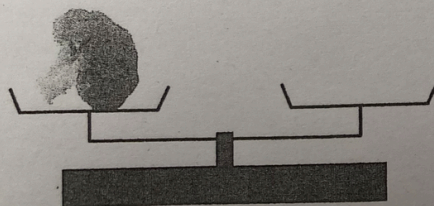
- Fiche balance

Balances

1 Indique combien pèsent ces fruits et légumes.

 g
 g
 g

2 Le brocoli pèse 410 g. Dessine les poids sur la balance.



○ Fiche exercices dénombrement

Faire des paquets de 10.

EXERCICES DÉNOMBREMENT 1



EXERCICES DÉNOMBREMENT 2

